


la continuité sans changement


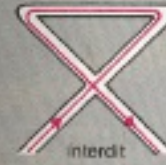
Avec un crayon,
vous devez parcourir tout ce dessin d'un trait unique
et continu qui ne se croise jamais.




solution dans le n° 3

la continuité sans changement

Avec un crayon,
vous devez parcourir tout ce dessin d'un trait unique
et continu qui ne se croise jamais.



solution dans le n° 3




ÉCHANGES

Aline, Brigitte
et Catherine
font du ski.

Chacune
a mis le bonnet d'une de ses amies et le rouge à lèvres
d'une autre.

Celle qui porte le rouge de Catherine a sur la tête le
bonnet de Brigitte.

Qui a mis le bonnet d'Aline ?



ÉCHANGES

Aline, Brigitte
et Catherine
font du ski.

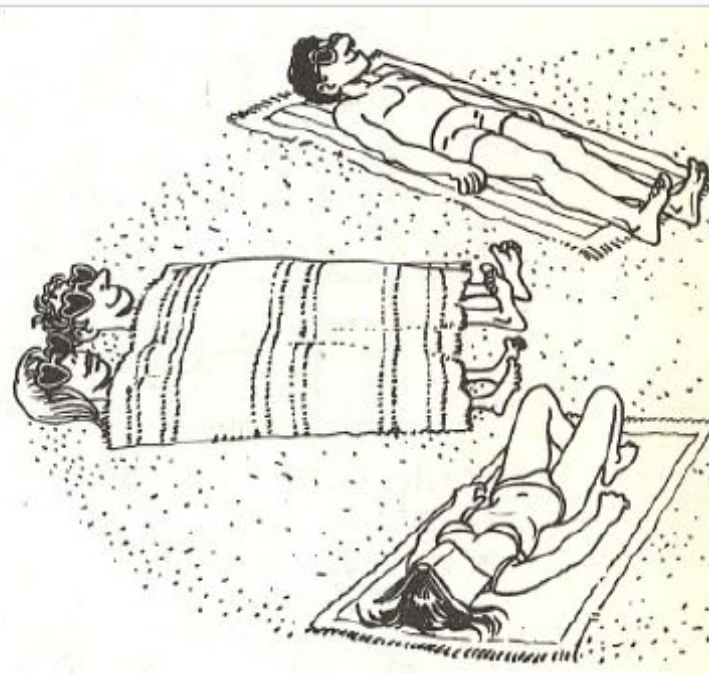
Chacune
a mis le bonnet d'une de ses amies et le rouge à lèvres
d'une autre.

Celle qui porte le rouge de Catherine a sur la tête le
bonnet de Brigitte.

Qui a mis le bonnet d'Aline ?

LE JEU DE LAM

Si vous vous ennuyez tout seul sur cette plage, dessinez sur le sable une étoile. Placez des cailloux sur 9 des 10 sommets ainsi formés. Puis avancez un jeton sur la place vide en sautant sur un autre jeton que vous enlèverez alors du jeu. Recommencez ainsi l'opération (arrivée par saut sur une case vide et enlèvement du pion sauté) jusqu'à ce que vous soyez bloqué. Combien de pions reste-t-il alors en jeu ? S'il n'en reste qu'un, vous avez gagné ; sinon, vous avez perdu. Et il ne vous reste plus qu'à recommencer...



BAINS DE SOLEIL

Sur cette plage, 90 % des femmes qui prennent leur bain de soleil portent des lunettes noires, 85 % un soutien-gorge (tout de même...), 80 % ont un chapeau et 75 % de la crème solaire. Quel est alors le pourcentage minimal de celles qui ont à la fois des lunettes noires, un soutien-gorge, un chapeau et de la crème solaire ?

LA BANDE DES SEPT

Ils sont 7, allongés en rond sur la plage. Parmi eux, il y a 2 couples d'amoureux inséparables. De combien de façons différentes ces jeunes gens peuvent-ils s'installer les uns par rapport aux autres ?

